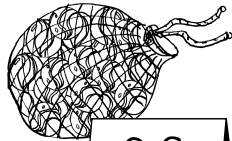


1 Wie viel kostet es? Rechne aus.



7 €



2 €

+  =




1 €

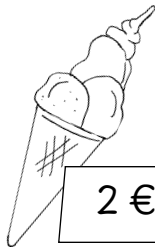


3 €

+  =




8 €



2 €

+  =



3 €

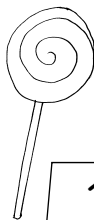


5 €

+  =



2 €



1 €

+  =

1 Was muss bezahlt werden? Rechne aus.



8,50 €



1 €

+  =

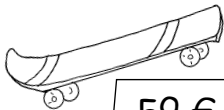


9 €



15 €

+  =



59 €



34 €

+  =

2 Berechne das Rückgeld.

Du gibst 1 €.



85 ct

Rückgeld:

37 ct

Rückgeld:

12 ct

Rückgeld:



Du gibst 100 €.



39 €

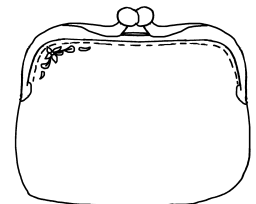
Rückgeld:

88 €


Rückgeld:

14 €

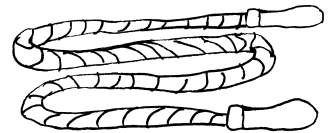
Rückgeld:



3 Stelle deinem Partner eigene Aufgaben. Kann er das Rückgeld berechnen? Wechselt euch ab.



1 Ela kauft eine Puppe und ein Hüpfseil. Sie bezahlt mit einem 50-€-Schein.



Frage: Wie viel Geld bekommt sie zurück?

Rechnung:


Antwort:



2 Stelle deinem Partner eigene Aufgaben. Kann er sie lösen? Wechselt euch ab.