







# Abschlusstest Nadelbäume

1. Hier siehst du 2 Baumformen und zwei Baumnamen. Schreibe unter die Baumformen jeweils den Nadelbaum, der diese Form hat. Zeichne über die Baumnamen jeweils die passende Baumform.



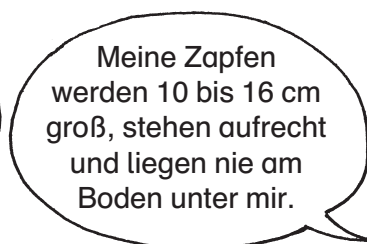
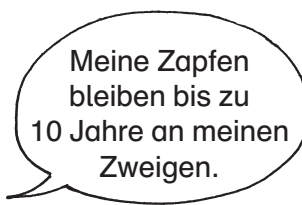
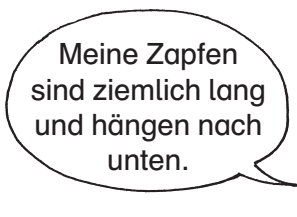
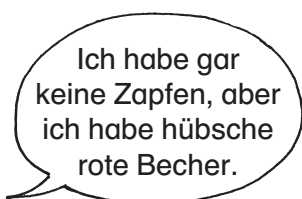
\_\_\_\_\_

\_\_\_\_\_

Eibe

Zypresse

2. Welcher Baum sagt was? Schreibe seinen Namen auf die Linie unter der Sprechblase.



\_\_\_\_\_

\_\_\_\_\_

\_\_\_\_\_

\_\_\_\_\_

3. Ergänze folgenden Satz: In Mitteleuropa gibt es nur einen Nadelbaum, der im Herbst seine Nadeln verliert, und das ist \_\_\_\_\_.

4. Zähle 10 Dinge auf, die aus dem Holz von Nadelbäumen hergestellt werden können.

\_\_\_\_\_  
\_\_\_\_\_  
\_\_\_\_\_

5. Kreuze bei jedem Nadelbaum die zutreffenden Eigenschaften an.

	immergrün	steht auch in Mischwäldern	hat Zapfen	ist kegelförmig
Fichte				
Tanne				
Eibe				
Lärche				
Kiefer				
Zypresse				

6. Erkläre, weshalb Nadelbäume im Winter ihre Nadeln nicht abwerfen.

\_\_\_\_\_  
\_\_\_\_\_  
\_\_\_\_\_