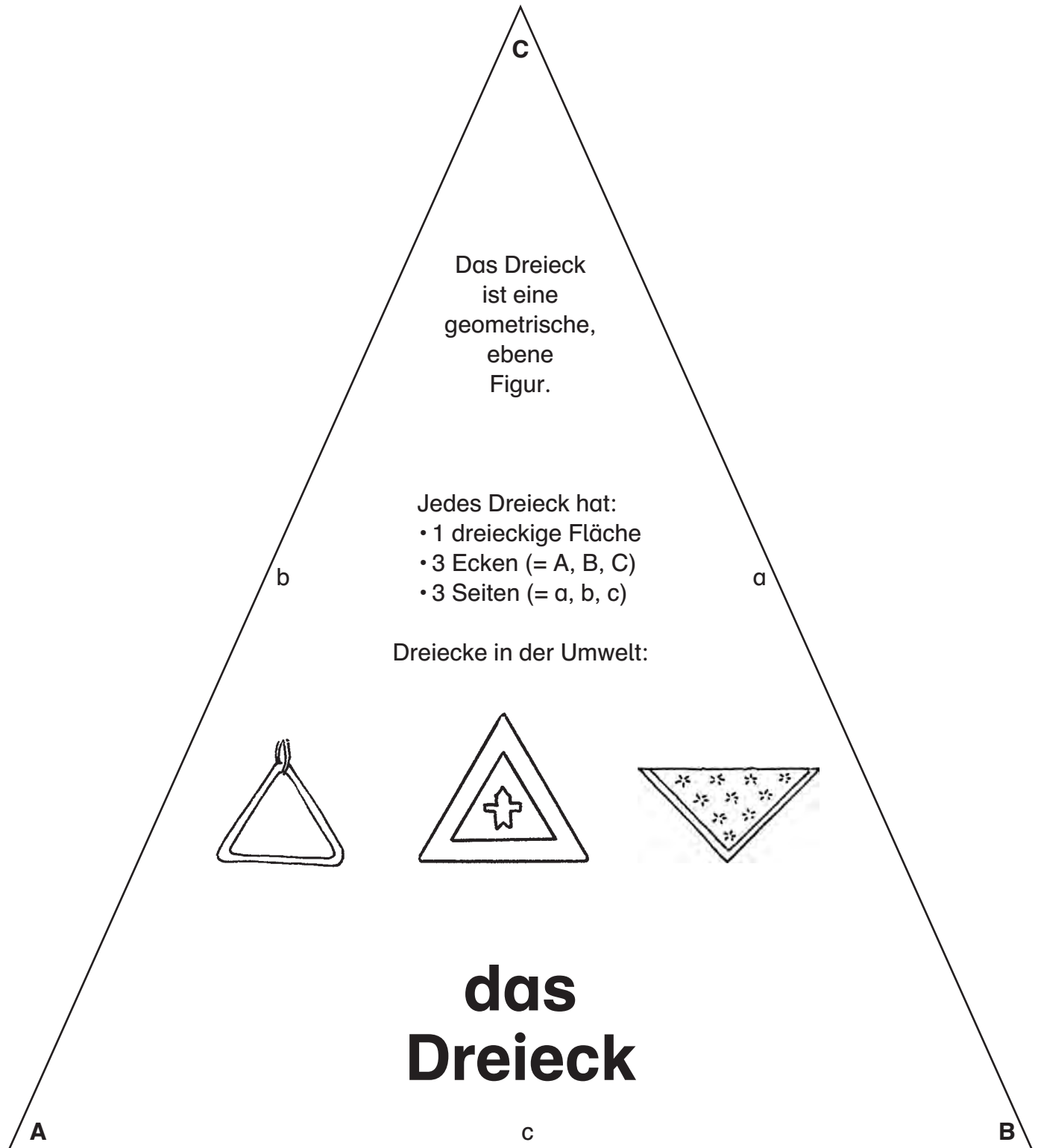


# Dreieck – Modell 1



# Quader – Modell 1

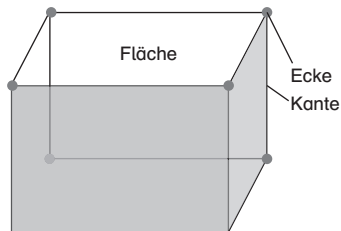
Ein Quadernetz besteht aus  
6 zusammenhängenden Rechtecken.

Es gibt 54 verschiedene Netze.

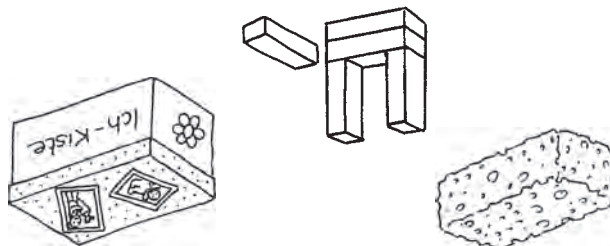
Der Quader  
ist ein  
geometrischer Körper.

**der  
Quader**

Jeder Quader hat:  
• 6 rechteckige Flächen  
• 8 Ecken  
• 12 Kanten



**Quader  
der**



Quader in der Umwelt:

<b>Ebene Figuren</b>	<b>Figuren-Malbild</b>	Name:
--------------------------	------------------------	-------

**1** Zeichne oder skizziere alle ebenen Figuren.



Quadrat



Rechteck

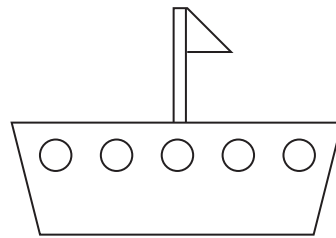
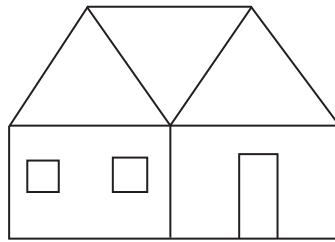
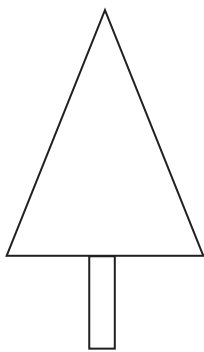


Kreis



Dreieck

**2** Zeichne oder skizziere ein Bild mit Dreiecken, Vierecken und Kreisen: ein Schiff, eine Rakete, einen Hund, eine Blume, eine Ampel



<b>Ebene Figuren</b>	<b>Figuren legen</b>	Name:
--------------------------	----------------------	-------

**1** Zeichne verschiedene Kreise, Dreiecke, Vierecke. Verwende dabei Bleistift, Lineal, Geodreieck und Zirkel.



Quadrat



Rechteck



Kreis



Dreieck

**2** Schneide deine gezeichneten Figuren aus und lege damit Muster, Personen, Tiere, Pflanzen, Dinge usw.

