


Menschenkette im Klassenraum

1


Wenn sich alle Kinder deiner Klasse an den Händen fassen, dann entsteht eine Schlange, die komplett um deinen ganzen Klassenraum geht.



Tippkarte 1

1


Wie viele Kinder sind in deiner Klasse?



Tippkarte 2

1


Welche Armspannweite hat ein Kind deines Alters? Miss aus.



Tippkarte 3

1


Welchen Umfang hat dein Klassenraum?



Tippkarte 4

1

Wie oft passt die Armspannweite eines Kindes in den Umfang des Klassenraums?






Gewicht der Schulbücher

4

Die ganzen Schulbücher deiner Klasse sind zusammen schwerer als ein Pony.



| | |
|---|---|
| <div style="display: flex; justify-content: space-between; align-items: center;"> <div style="background-color: #cccccc; padding: 5px; border-radius: 10px;">Tippkarte 1</div> <div style="background-color: #333; color: white; padding: 10px; border-radius: 10px; font-size: 2em; font-weight: bold;">4</div> </div> <div style="margin-top: 20px; display: flex; justify-content: space-between;"> <div style="width: 45%; padding: 10px; background-color: #f0f0f0;"> <p>Wie viele Kinder sind in deiner Klasse?</p> </div> <div style="width: 45%; border: 1px solid #ccc; border-radius: 10px; padding: 10px; text-align: center;">  </div> </div> | <div style="display: flex; justify-content: space-between; align-items: center;"> <div style="background-color: #cccccc; padding: 5px; border-radius: 10px;">Tippkarte 2</div> <div style="background-color: #333; color: white; padding: 10px; border-radius: 10px; font-size: 2em; font-weight: bold;">4</div> </div> <div style="margin-top: 20px; display: flex; justify-content: space-between;"> <div style="width: 45%; padding: 10px; background-color: #f0f0f0;"> <p>Wie viel wiegen deine eigenen Schulbücher zusammen?</p> </div> <div style="width: 45%; border: 1px solid #ccc; border-radius: 10px; padding: 10px; text-align: center;">  </div> </div> |
| <div style="display: flex; justify-content: space-between; align-items: center;"> <div style="background-color: #cccccc; padding: 5px; border-radius: 10px;">Tippkarte 3</div> <div style="background-color: #333; color: white; padding: 10px; border-radius: 10px; font-size: 2em; font-weight: bold;">4</div> </div> <div style="margin-top: 20px; display: flex; justify-content: space-between;"> <div style="width: 45%; padding: 10px; background-color: #f0f0f0;"> <p>Wie viel wiegt ein Pony?</p> </div> <div style="width: 45%; border: 1px solid #ccc; border-radius: 10px; padding: 10px; text-align: center;">  </div> </div> | |

Pausenzeit während eines Schuljahres

21

Du hast in einem Schuljahr mehr als 10 Stunden Pausenzeit.



Tippkarte 1

21

Wie lange dauern die Pausen während eines Schultages insgesamt?



Tippkarte 2

21

Wie viel Pausenzeit hast du während einer Schulwoche?



Tippkarte 3

21

Wie viele Wochen hat ein Jahr?



Tippkarte 4

21

Wie viele Schulwochen hat ein Jahr?





Diese Aufgabennummer
bearbeite ich:



Kann das stimmen? Vermute deine Lösung.

Ja

Nein

Das weiß ich schon:

Das muss ich noch wissen:
