





2



zwei





1	2	2	1	7	2	0	
4	6	2	7	2	3	2	
2	1	0	2	5	2	9	
8	3	2	1	7	6	2	
0	5	6	2	8	2	4	

2



2

2




2		2									
2											





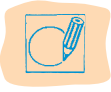
3























drei





3	2	5	1	3	1	0				
4	6	3	7	2	3	1				
3	1	0	2	3	1	9				
8	3	1	3	7	3	1				
0	5	6	3	8	1	4				

3



3


3





3		3								
3										



10



zehn



zehn 10



10	5	10	7	10	1	9	
4	6	10	7	3	10	2	
3	10	2	5	10	8	0	
10	3	10	7	6	1	10	
0	10	6	1	8	10	9	



10

10

10



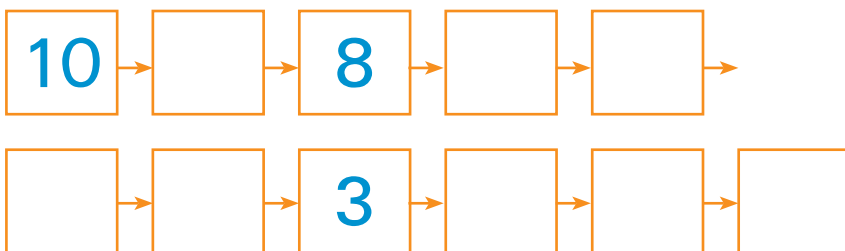
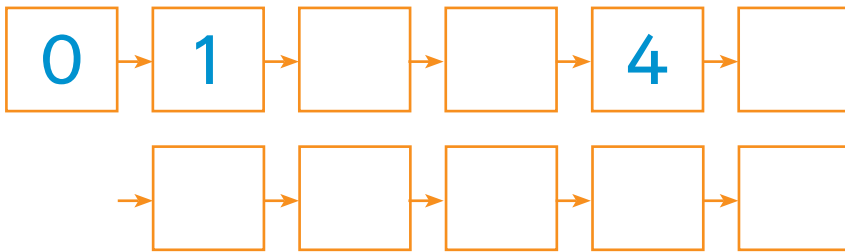
1	0		1	0							
1	0										



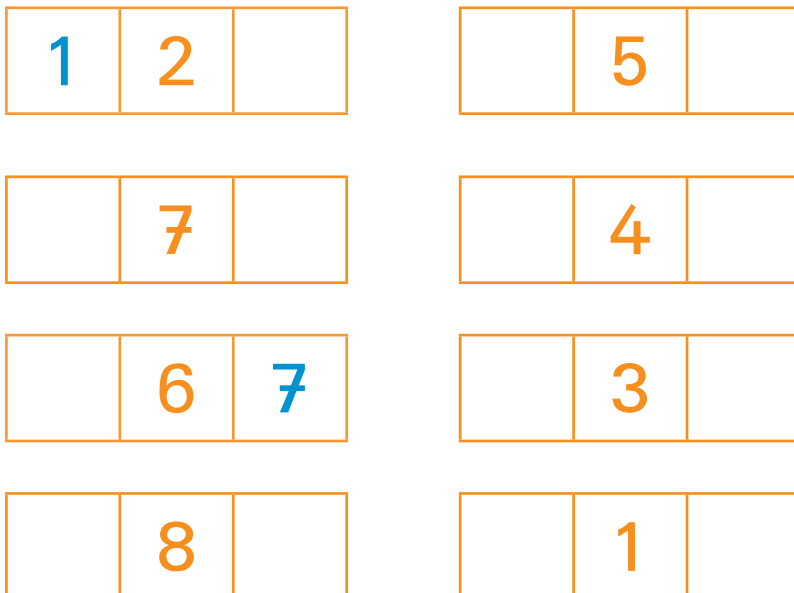
Zahlen bis 10



Zähle vorwärts und rückwärts.



Nachbarzahlen: Trage Vorgänger und Nachfolger ein.



Zahlen bis 10



Zähle die Dinge im Kinderzimmer: Zeichne für jedes Ding einen Strich. Schreibe zuletzt das Ergebnis als Zahl.



| 1



Zähle in deinem Zimmer diese Dinge: Male Striche. Schreibe das Ergebnis als Zahl.



Zahlen bis 10



2. Einfache Plus-Aufgaben bis 10: Schreibe die Anzahl der Finger als Zahlen darunter. Wie ist das Ergebnis?

$$\text{1 Finger} + \text{1 Finger} = \square$$

$$\text{1 Finger} + \text{1 Finger} = \square$$

$$\boxed{1} + \boxed{1} = \square$$

$$\square + \square = \square$$

$$\text{2 Finger} + \text{2 Finger} = \square$$

$$\text{2 Finger} + \text{2 Finger} = \square$$

$$\square + \square = \square$$

$$\square + \square = \square$$

$$\text{3 Finger} + \text{3 Finger} = \square$$

$$\text{3 Finger} + \text{3 Finger} = \square$$

$$\square + \square = \square$$

$$\square + \square = \square$$

$$\text{4 Finger} + \text{4 Finger} = \square$$

$$\text{4 Finger} + \text{4 Finger} = \square$$

$$\square + \square = \square$$

$$\square + \square = \square$$

$$\text{5 Finger} + \text{5 Finger} = \square$$

$$\text{5 Finger} + \text{5 Finger} = \square$$

$$\square + \square = \square$$

$$\square + \square = \square$$