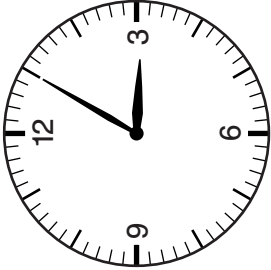
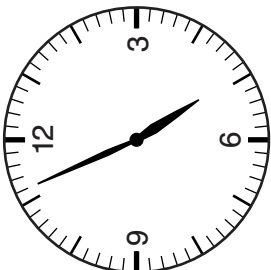
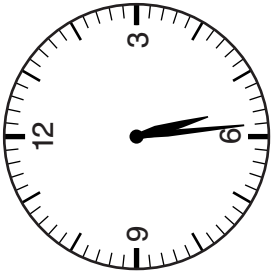
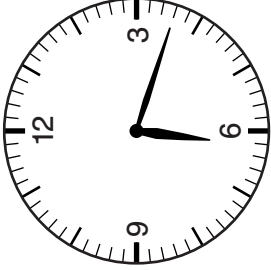




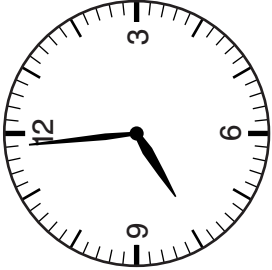

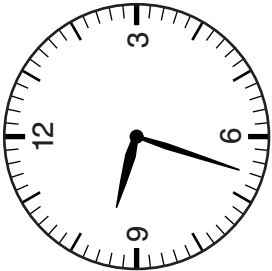
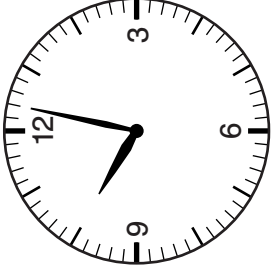














17 Aufsteiger I: Minuten



 <p>15:05 Uhr _____ Uhr</p>	 <p>16:56 Uhr _____ Uhr</p>	 <p>17:29 Uhr _____ Uhr</p>	 <p>18:18 Uhr _____ Uhr</p>
 <p>Aufsteiger I 129</p>	 <p>Aufsteiger I 130</p>	 <p>Aufsteiger I 131</p>	 <p>Aufsteiger I 132</p>
 <p>19:59 Uhr _____ Uhr</p>	 <p>20:01 Uhr _____ Uhr</p>	 <p>21:33 Uhr _____ Uhr</p>	 <p>22:02 Uhr _____ Uhr</p>
 <p>Aufsteiger I 133</p>	 <p>Aufsteiger I 134</p>	 <p>Aufsteiger I 135</p>	 <p>Aufsteiger I 136</p>



19 Aufsteiger II: Wie spät war es vor ... Minuten?


 <p>Aufsteiger II 152</p> <p>Wie spät war es vor ... Minuten?</p> <p>Es ist 1 Uhr.</p> <p>59 min</p> <p>_____ Uhr</p>	 <p>Aufsteiger II 148</p> <p>Wie spät war es vor ... Minuten?</p> <p>Es ist 21 Uhr.</p> <p>48 min</p> <p>_____ Uhr</p>
 <p>Aufsteiger II 151</p> <p>Wie spät war es vor ... Minuten?</p> <p>Es ist 24 Uhr.</p> <p>42 min</p> <p>_____ Uhr</p>	 <p>Aufsteiger II 147</p> <p>Wie spät war es vor ... Minuten?</p> <p>Es ist 20 Uhr.</p> <p>36 min</p> <p>_____ Uhr</p>
 <p>Aufsteiger II 150</p> <p>Wie spät war es vor ... Minuten?</p> <p>Es ist 23 Uhr.</p> <p>21 min</p> <p>_____ Uhr</p>	 <p>Aufsteiger II 146</p> <p>Wie spät war es vor ... Minuten?</p> <p>Es ist 19 Uhr.</p> <p>7 min</p> <p>_____ Uhr</p>
 <p>Aufsteiger II 149</p> <p>Wie spät war es vor ... Minuten?</p> <p>Es ist 22 Uhr.</p> <p>18 min</p> <p>_____ Uhr</p>	 <p>Aufsteiger II 145</p> <p>Wie spät war es vor ... Minuten?</p> <p>Es ist 17 Uhr.</p> <p>53 min</p> <p>_____ Uhr</p>

27 Lernkontrolle 3 (B): drei viertel Stunden und Minuten

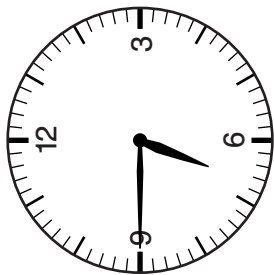


Name: _____ Datum: _____

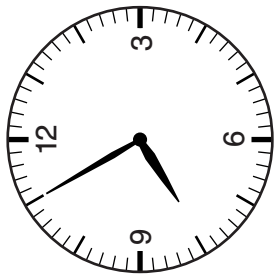
1. Wie spät ist es?



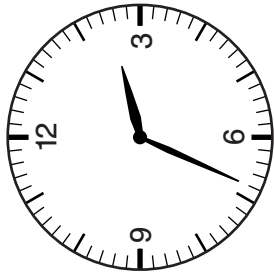
Uhr _____ Uhr _____



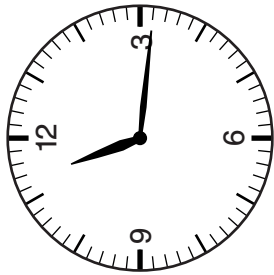
Uhr _____ Uhr _____



Uhr _____ Uhr _____

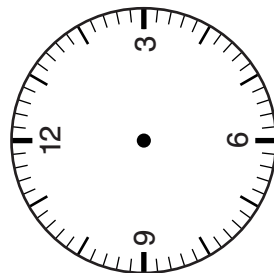


Uhr _____ Uhr _____

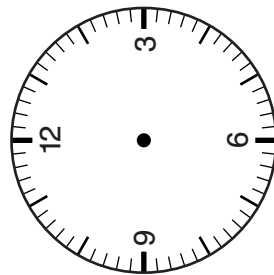


Uhr _____ Uhr _____

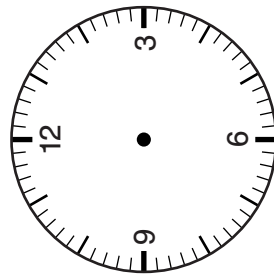
2. Zeichne die Zeiger ein.



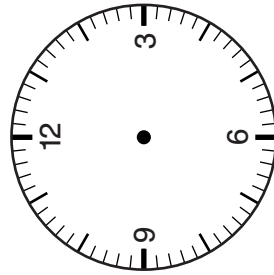
5:56 Uhr _____ Uhr _____



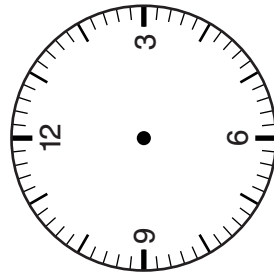
19:21 Uhr _____ Uhr _____



10:50 Uhr _____ Uhr _____



6:45 Uhr _____ Uhr _____



21:45 Uhr _____ Uhr _____